





LES NOMBRES

Les dizaines

Dessine les sacs de dix cubes et les cubes nécessaires pour avoir le nombre indiqué dans le tableau.

| | | |
|--|---|---|
| |  dizaines |  unités |
| | 1 | 2 |



| | | |
|--|---|---|
| |  dizaines |  unités |
| | 2 | 4 |



| | | |
|--|---|---|
| |  dizaines |  unités |
| | 1 | 5 |



| | | |
|--|---|---|
| |  dizaines |  unités |
| | 2 | 7 |

| | | |
|--|---|---|
| |  dizaines |  unités |
| | 1 | 0 |

Dessine les sacs (sans dessiner les cubes à l'intérieur) et les cubes nécessaires pour avoir le nombre indiqué dans le tableau.

| | | |
|--|---|---|
| |  dizaines |  unités |
| | 1 | 8 |

| | | |
|--|---|---|
| |  dizaines |  unités |
| | 3 | 5 |

| | | |
|--|---|---|
| |  dizaines |  unités |
| | 2 | 6 |

| | | |
|--|---|---|
| |  dizaines |  unités |
| | 3 | 3 |

| | | |
|--|---|---|
| |  dizaines |  unités |
| | 2 | 0 |

| | | |
|--|---|---|
| |  dizaines |  unités |
| | 1 | 9 |